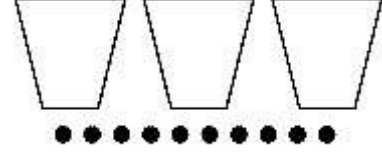



SORULAR

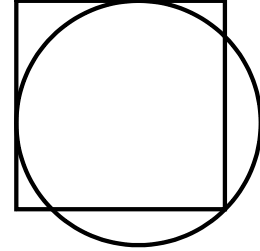
SORU 1: 10 bilyeyi her bardağın içinde tek sayıda bilye olacak şekilde 3 bardağın içine yerleştirin.



SORU 2: 4, 5, 6, 9, 10, 11, 14, 15, 16 sayılarını boş kutulara öyle yerleştirin ki satır, sütun ve köşegen toplamları eşit olsun.



SORU 3: Karenin kenar uzunluğunun dairenin yarıçapına oranı nedir?



Doğru yanıtları e-posta yoluyla bildiren ilk 3 üyemize EMO yayınlarından oluşan bir kitap seti hediye ediyoruz. Yanıtlarınızı ankara.bulten@emo.org.tr adresine bildirebilirsiniz. Soruları hazırlayan üyemiz Murat GENÇ'e teşekkür ederiz.

Geçen Sayının Yanıtları

Soru 1.

PARLAMENTER

Soru 2:

5
9-4
2-11-7
10-12-18
18-3-15-14-6
13-3-15-14-6

Soru 3:

4358717

NOT: Geçen sayımızda doğru yanıt veren üyelerimiz Nafiz Metin TATAR, Özgür COŞAR ve Murat GENÇ'e EMO yayınlarından oluşan kitap seti en kısa zamanda ulaştırılacaktır.